

แบบฝึกที่ 1


ความสัมพันธ์การคูณและการหาร

ชื่อ _____

เลขที่ _____



ความรู้คู่แบบฝึก



ตัวอย่างที่ 1

$$7 \times 9 = 63$$

$$63 \div 7 = 9$$

$$63 \div 9 = 7$$




ตัวอย่างที่ 2

$$60 \times 6 = 360$$

$$360 \div 60 = 6$$

$$360 \div 6 = 60$$



ตอนที่ 1 ช่วยกันหาคำตอบแล้วตอบลงในช่องว่างให้ถูกต้องนะคะ

1. $5 \times 8 = 40$

$40 \div 5 =$

$40 \div 8 =$

2. $7 \times 3 = 21$

$21 \div 7 =$

$21 \div 3 =$

3. $9 \times 8 = 72$

$72 \div 9 =$

$72 \div 8 =$

4. $5 \times 7 = 35$

$35 \div 5 =$

$35 \div 7 =$

5. $9 \times 4 = 36$


$36 \div 9 =$

$36 \div 4 =$

6. $5 \times 6 = 30$

$30 \div 5 =$

$30 \div 6 =$



7. $90 \times 6 = 540$


$540 \div 90 =$

$540 \div 6 =$

8. $55 \times 8 = 440$

$440 \div 55 =$

$440 \div 8 =$



9. $80 \times 7 = 560$

$560 \div 80 =$

$560 \div 7 =$

10. $78 \times 8 = 624$

$624 \div 78 =$

$624 \div 8 =$

การคูณมีความสัมพันธ์กับการหาร

การหาร ตัวตั้ง ตัวหาร ผลหาร และเศษ

มีความสัมพันธ์กัน ดังนี้

$$\text{ตัวตั้ง} = (\text{ตัวหาร} \times \text{ผลหาร}) + \text{เศษ}$$



ตอนที่ 2 ช่วยพี่หมีเติมตัวเลขลงในช่องว่างให้ถูกต้องนะคะ

ตัวอย่าง

$$8 \times \boxed{3} = 24$$

$$24 \div \boxed{8} = 3$$



1. $50 \times \boxed{} = 250$

$$250 \div 50 = \boxed{}$$



2. $100 \times \boxed{} = 800$

$$800 \div 100 = \boxed{}$$



3. $220 \times \boxed{} = 2,200$

$$2,200 \div 220 = \boxed{}$$



4. $1,000 \times \boxed{} = 25,000$

$$25,000 \div 1,000 = \boxed{}$$

5. $1,200 \times \boxed{} = 14,400$

$$14,400 \div 1,200 = \boxed{}$$

เย้...เก่งจังเลย

